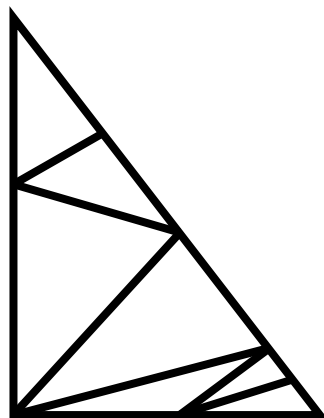




Внимательно прочти задания. Ответы и решения впиши в специальный лист. *Желаем успеха!*

1) Сколько треугольников изображено на рисунке?



2) В кладовой у Кащея Бессмертного хранятся ковер-самолет, меч-кладенец, сапоги-скороходы и скатерть-самобранка. Каждый предмет спрятан в отдельный сундук. Надписи на всех сундуках ложные. Сумеешь ли ты разобраться и подписать под сундуками, что лежит в каждом из них?




3) Вставить в цветочки каждую из цифр 1,2,3,4,5,6,7,8,9 по одному разу, чтобы равенства были верными. Если сможешь, сделай это разными способами.

$$\begin{array}{r} \odot + \odot = \odot \\ \odot + \odot = \odot \odot \\ \odot - \odot = \odot \end{array}$$

4) В хоровод вокруг елки встали сначала 5 бабушек. Потом между каждыми двумя соседними бабушками встали по одному мальчику. А напоследок между каждыми двумя соседними участниками хоровода встали по одной девочке. Сколько девочек оказалось в хороводе?

5) В зоомагазин привезли коробку, в которой лежали яйца канареек и черепашек – всего 9 штук. После



того, как ее поставили в теплое место, из каждого яйца вылупилось по одному питомцу. У всей вылупившейся компании было в общей сложности 22 ноги.



Сколько вылупилось канареек?

Сколько черепашек?


Бланк для ответов и решений

(городской-2018, 1 кл)

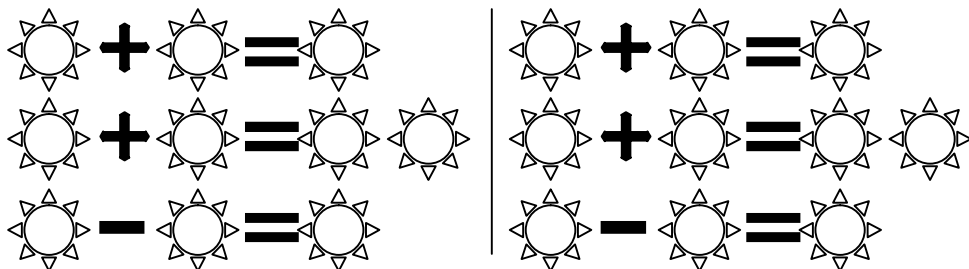
Шифр _____

1) На рисунке _____ треугольников.

2) Подпиши, что лежит в каждом сундуке:



3) Цифры можно вставить так:



4) В хороводе оказалось _____ девочек.

5) Вылупилось черепашек - _____.

Вылупилось канареек - _____.

Задача 1	Задача 2	Задача 3	Задача 4	Задача 5	Баллы	Место

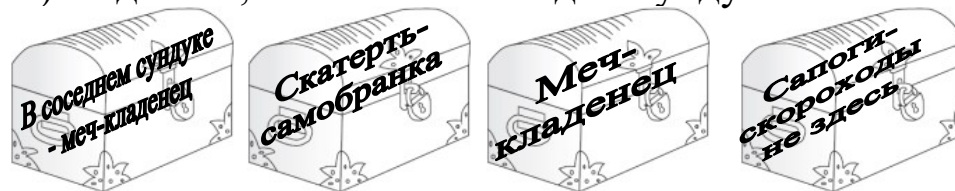
Бланк для ответов и решений

(городской-2018, 1 кл)

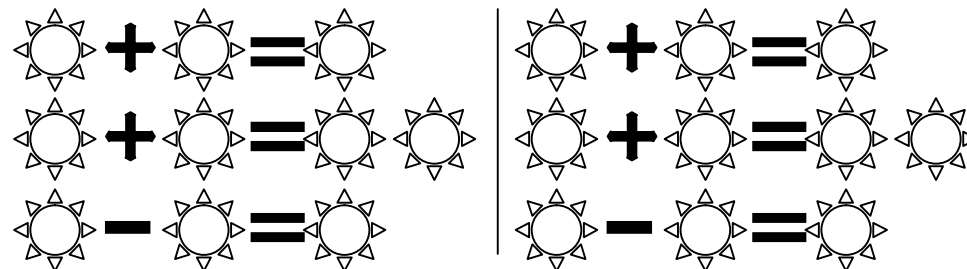
Шифр _____

1) На рисунке _____ треугольников.

2) Подпиши, что лежит в каждом сундуке:



3) Цифры можно вставить так:



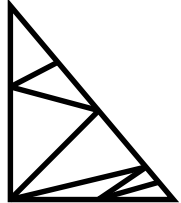
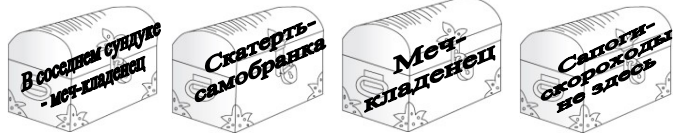

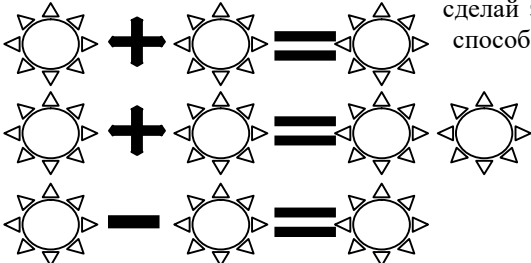
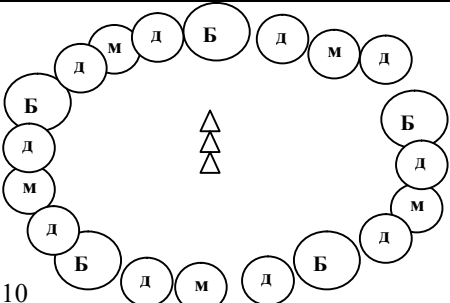
4) В хороводе оказалось _____ девочек.

5) Вылупилось черепашек - _____.

Вылупилось канареек - _____.

Задача 1	Задача 2	Задача 3	Задача 4	Задача 5	Баллы	Место

Ответы, решения и рекомендации по оцениванию выполнения заданий (городской, 2018, 1 класс)

<p>Сколько треугольников изображено на этом рисунке?</p> 	<p>Из 1 – 7 шт Из 2 – 2 шт Из 3 – 2 шт Из 4 – 2 шт Из 5, 6 – нет Из 7 – 1 шт Всего – 14 шт</p>	<p>7 баллов – дан верный ответ 1 балл – ответ отличается от верного не более, чем на 2 0 баллов – все остальные случаи</p>
 <p>В кладовой у Касея Бессмертного хранятся ковер-самолет, меч-кладенец, сапоги-скороходы и скатерть-самобранка. Каждый предмет спрятан в отдельный сундук. Надписи на всех сундуках ложные. Сумеешь ли ты разобраться и подписать под сундуками, что лежит в каждом из них?</p>	 <p>меч ковер скатерть сапоги</p>	<p>7 баллов - все сундуки подписаны верно 5 баллов – 3 сундука подписаны верно 3 балла – 2 сундука подписаны верно 1 балл - один сундук подписан верно 0 баллов – все остальные случаи</p>
<p>Вставить в цветочки каждую из цифр 1,2,3,4,5,6,7,8,9 по одному разу, чтобы равенства были верными. Если можешь, сделай это разными способами.</p> 	<p>Задача не имеет решения, поскольку цифр предложено всего девять, а цветочков десять. Вписать 9 цифр в 10 цветочков без повторений невозможно.</p>	<p>7 баллов – существование решения задачи аргументованно опровергнуто. 5 баллов – указано, что задача не имеет решения, но объяснения не даны, или даны неверно. 3 балла – приведено хотя бы одно не полное решение задачи (составлены 3 верных равенства, но при этом не более одного раза повторяется только одна из цифр, например: 4+2=6 8+5=13 9-7=2). 0 баллов – все остальные случаи</p>
<p>В хоровод вокруг елки встали сначала 5 бабушек. Потом между каждыми двумя соседними бабушками встали по одному мальчику. А напоследок между каждыми двумя соседними участниками хоровода встали по одной девочке. Сколько девочек оказалось в хороводе?</p>	 <p>Ответ: 10</p>	<p>7 баллов – правильный ответ 0 баллов – все остальные случаи</p>
<p>В зоомагазин привезли коробку, в которой лежали яйца канареек и черепашек – всего 9 штук. После того, как ее поставили в теплое место, из каждого яйца вылупилось по одному питомцу. У всей вылупившейся кампании было в общей сложности 22 ноги. Сколько вылупилось канареек? Сколько черепашек?</p>	<p>2 черепашки, 7 канареек</p>	<p>7 баллов – даны правильные ответы на оба вопроса 4 балла – дан правильный ответ на один из вопросов 0 баллов – все остальные случаи</p>