

**Муниципальный этап всероссийской олимпиады школьников
по обществознанию
2019-2020 учебный год
10 класс
Максимальный балл – 85 баллов**

Задание 1. Выберите все правильные ответы. Запишите их в таблицу (8 баллов)

1. Выбор одного из нескольких вариантов:

Что из перечисленного относится к производству государством общественных благ?:

- а) наполнение государственного бюджета
- б) правовое регулирование экономики
- в) мероприятия по укреплению курса национальной валюты
- г) осуществление налогообложения предприятий
- д) открытие новых муниципальных дошкольных учреждений
- е) проведение антиинфляционной политики

2. Множественный выбор:

Что из перечисленного относится к биологическим качествам человека:

- а) быстрота реакции
- б) законопослушность
- в) трудолюбие
- г) бережливость
- д) умение защищаться от врагов

3. Множественный выбор:

Что из перечисленного относится к массовой культуре:

- а) интернет-шоу «вДудь»
- б) фестиваль авангардного джаза
- в) бестселлер за авторством Пауло Коэльо
- г) сказка «Вишневая гора»
- д) новый альбом группы BTS в жанре Korean-pop

4. Найдите понятие, которое является обобщающим для всех остальных понятий представленного ниже ряда:

система образования, образовательные стандарты, образовательные учреждения, субъекты образования, образовательные программы

5. Что является лишним в ряду:

ощущение, представление, восприятие, суждение

6. Заполни пропуск в ряду:

род, племя, _____, нация.

Таблица для ответа:

1	2	3	4	5	6

Задание 2. Определите верность/ошибочность суждений (10 баллов)

		Да/нет
1.	Дедукция – переход от общего к частному.	
2.	ОАО «Российские железные дороги» является примером естественной монополии.	
3.	Сальдо внешней торговли положительное, когда объем импорта страны превышает объем экспорта.	
4.	Тройская уния – единица измерения массы, используемая в банковском деле для измерения веса драгоценных металлов.	
5.	Депутатом Государственной Думы может быть избран гражданин Российской Федерации, достигший возраста 40 лет и имеющий право участвовать в выборах.	
6.	Моногамия – одновременный брак одного мужчины с одной женщиной.	
7.	Естественный уровень безработицы рассчитывается как сумма уровней фрикционной и циклической безработицы.	
8.	Номинальный лидер может не являться неформальным лидером.	
9.	Распространение массовой культуры непосредственно связано с развитием средств массовой коммуникации.	
10.	Абсентеизм – уклонение избирателей от участия в выборах.	

Задание 3. Логическая задача (7 баллов)

Богини Гера, Афродита и Афина пришли к юному Парису, чтобы тот установил, кто из них прекраснее всех. Они высказали следующие утверждения.

Афродита: Я самая прекрасная.

Гера: Я самая прекрасная.

Афина: Афродита не самая прекрасная.

Афродита: Гера не самая прекрасная.

Афина: Я самая прекрасная.

Парис предположил, что все утверждения прекраснейшей из богинь истинны, а все утверждения двух других ложны.

Считая это предположение истинным, определите, кто прекраснейшая из богинь. Аргументируйте ответ.

Место для ответа:

Задание 4. Решите задачу по праву (7 баллов)

Наталья Богатова пришла за продуктами в магазин «Шестерочка». Вещи, купленные в других магазинах, она оставила в ячейке камеры хранения при входе в супермаркет. Совершив покупки, Богатова обнаружила, что все содержимое ячейки камеры хранения похищено. Охранник и директор «Шестерочки» заявили, что не несут ответственности за оставленные вещи, о чем сообщено в объявлении на дверцах камер хранения. Наталья Богатова обратилась в суд иском о возмещении причиненного ущерба.

Кто прав в данной ситуации? Аргументируйте ответ.

Место для ответа:

Задание 5. Решите задачу по экономике (10 баллов)

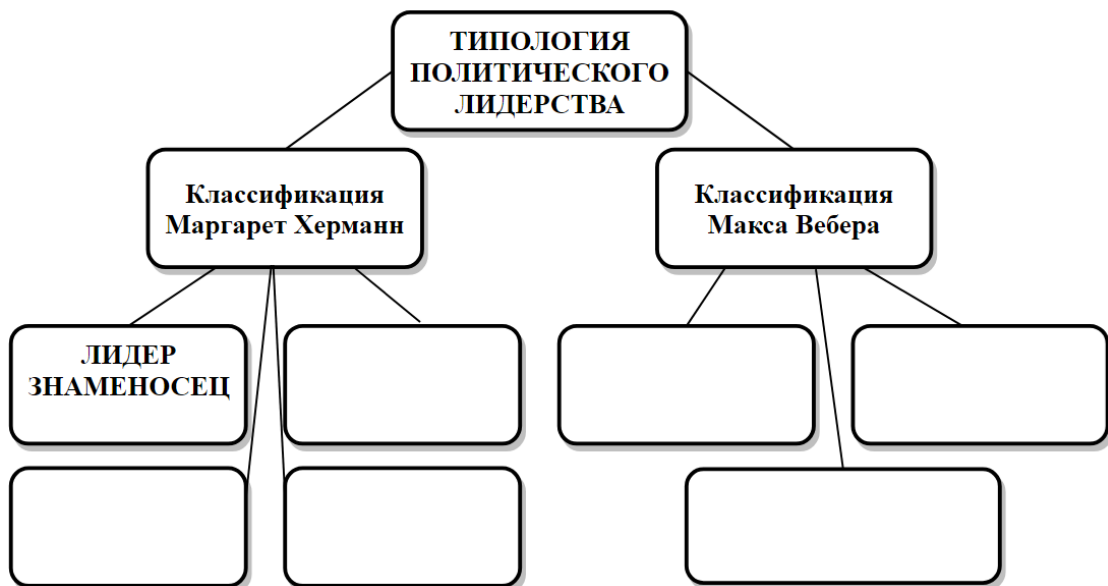
Спрос на услуги детских аттракционов в торгово-развлекательных комплексах (ТРК) задан функцией $Q_d = 400 - P$, а предложение: $Q_s = 3P$, где P – средняя стоимость билета на аттракцион (руб.), а Q – количество посетивших аттракцион детей за один день.

В связи с наступлением осени и ухудшением погодных условий, родители с детьми, предпочитающие отдых на свежем воздухе, были вынуждены изменить свои предпочтения в пользу детских аттракционов в торгово-развлекательных комплексах. Таким образом, на рынке сформировалась еще одна группа потребителей услуг детских аттракционов с функцией спроса $Q_d = 200 - P$.

Определите, как изменилась равновесная цена на рынке услуг детских аттракционов в торгово-развлекательных комплексах после появления новых покупателей? Аргументируйте ответ.

Место для ответа:

Задание 6. Феномен политического лидерства изучается многими видными учеными. Заполните пропуски в представленной ниже схеме, указав недостающие типы политического лидерства (6 баллов)



Задание 7. О каком обществоведческом понятии идет речь в высказываниях мыслителей? (5 баллов)

«_____ в мужчине то же, что красота в женщине – всего лишь обещание. Для того, чтобы быть подлинно великим, его сердце и характер должны быть равны его _____». *О. Бальзак*

«Без труда _____ - это фейерверк: на мгновение ослепляет, а потом ничего не остается». *Р. Мартен дю Гар*

«_____ сам по себе бесцветен и приобретает окраску только в применении». *М.Е. Салтыков-Щедрин*

«Чтобы иметь _____, нужно быть уверенным, что обладаешь им». *Г. Флобер*

«_____ должен убедить массу в истинности своих идей, и тогда ему больше не придется беспокоиться об их осуществлении, которое совершенно само собой последует за их усвоением». *Ф. Энгельс*

Какое из высказываний наиболее полно раскрывает сущность данного понятия?

Место для ответа:

Задание 8. Изучите представленные ниже изображения и выполните задания. Распределите изображения на три группы. Укажите буквенные обозначения изображений, составляющих каждую группу. Укажите, что объединяет изображения в каждой группе, на основании установленного Вами общего основания для классификации (10 баллов)



А



Б



В



Г



Д




Е



Ж



З



И



К

Место для ответа:

	<i>Критерий</i>	<i>№№ изображений</i>
<i>Группа 1</i>		
<i>Группа 2</i>		
<i>Группа 3</i>		

Задание 9. Вам предложена проблемная ситуация. Проанализируйте ситуацию и ответьте на вопросы, представленные ниже (22 балла)

Для многих населенных пунктов и городов нашей страны характерна проблема ветхости и аварийности жилого фонда: это и доходные дома XIX века, и «соцгорода» 1930-х годов, и «хрущевки» времен освоения космоса. Сроки их эксплуатации истекают, при этом, чаще всего, они расположены в центральных районах городов. Вы являетесь избранным мэром развивающегося города с населением более 500 тыс. человек. Перед вами стоит проблема аварийного жилого микрорайона с населением в 30 тыс. человек. Микрорайон находится в непосредственной близости от здания администрации города, в нём отсутствуют объекты культурного наследия. Вы заручились поддержкой губернатора и всей вышестоящей вертикали власти, поэтому можете выбрать любой вариант решения проблемы.


В своих ответах, по возможности, используйте обществоведческую терминологию.

9.1. Предложите любые три способа решения данной проблемы и выберите один из них для реализации. Аргументируйте свой выбор.

Место для ответа:

9.2. Спрогнозируйте по два любых последствия принятого вами решения, влияющих на политическую, экономическую и социальную сферы жизни города (всего 6 последствий).

Место для ответа:



9.3. Выберите любые два из предложенных вами экономических и социальных последствий вашего решения и аргументируйте, как их можно использовать в построении вашей дальнейшей политической карьеры.

Место для ответа:

