

**Муниципальный этап всероссийской олимпиады школьников
по обществознанию
2020-2021 учебный год
7 класс
Максимальный балл – 50 баллов**

Задание 1. Выберите все правильные ответы. Запишите их в таблицу (4 балла)

1. Выбор одного из нескольких вариантов:

К конституционным обязанностям граждан РФ не относится:

- А) охрана природы и окружающей среды
- Б) уплата налогов и сборов
- В) защита Отечества
- Г) любовь к Родине

2. Множественный выбор:

Найдите функции образования:

- А) формирование профессиональной структуры общества
- Б) защита государственной границы
- В) производство товаров широкого потребления
- Г) использование ранее накопленной культуры в целях воспитания индивида
- Д) охрана правопорядка

3. Что является лишним в ряду:

Игра, учение, общение, потребность, творчество.

4. Найдите понятие, которое является обобщающим для всех остальных понятий представленного ниже ряда:

Совесть, мораль, долг, зло, справедливость, добро.

Таблица для ответа:

1	2	3	4

Задание 2. Определите верность/ошибочность суждений (10 баллов)

		Да/нет
1.	Согласно ирригационной теории, возникновение древнейших государств связано с необходимостью строительства водных сооружений в долинах Нила, Тигра, Инда и т.д. для развития сельского хозяйства.	
2.	В РФ закон, устанавливающий или отягчающий ответственность, распространяется на деяния, совершенные до принятия закона.	
3.	Балет относится к народной культуре.	
4.	Дошкольное образование в РФ является одним из уровней общего образования.	
5.	В РФ все равны перед законом и судом.	

6.	Христианство является монотеистической мировой религией.	
7.	Депутатом Государственной Думы может быть избран только мужчина.	
8.	Для кастового общества характерна высокая социальная мобильность.	
9.	Каждый человек индивидуален.	
10.	Одна из функций искусства – развлекательная.	

Задание 3. Логическая задача (5 баллов)

Известный эрудит Анатолий Вассерман вышел в финал телевизионной интеллектуальной игры. В студию вынесли две шкатулки, и ведущий предложил Анатолию сделать непростой выбор – определить, в какой из них находится денежный приз. На первой шкатулке надпись: «В одной из этих шкатулок находится денежный приз». На второй написано: «В другой шкатулке нет денежного приза». Точно известно, что либо обе эти надписи истинны, либо обе ложны. Есть ли в какой-либо шкатулке денежный приз? И если есть, то в какой именно?

Место для ответа:

Задание 4. Решите задачу по праву (6 баллов)

«Хорошо быть ребенком в Российской Федерации!» - однажды подумал Петр Любознайкин. С рождения ты имеешь право на жизнь, на имя, право воспитываться в семье. Родители могут устроить тебя в детский сад, но если ты не хочешь, то можешь не ходить, так как ты уже обладаешь правоспособностью. До 16 лет все сделки за тебя совершают родители. А в 16 лет наступает полная дееспособность: ты можешь сам распоряжаться своими заработками, вступать в брак без чьего-либо согласия, открывать счет в банке, самостоятельно обращаться в суд за защитой своих интересов. До 16 лет тебя не могут привлечь ни к уголовной, ни к административной ответственности. При возникновении проблем с полицией родители обязаны защищать твои интересы. «Жаль, что скоро мне исполнится 21 год и я буду совершеннолетним!» - расстроился Петр.

Найдите ошибки в рассуждениях Петра Любознайкина.

Место для ответа:

Задание 5. О каком обществоведческом понятии идет речь в высказываниях мыслителей? (5 баллов)

«Вы обладаете _____, если другие думают, что вы обладаете _____.» *Уич Фаулер*

«Везде, где находил я живое, находил я и волю к _____.» *Ф. Ницше*





«Наилучшая _____ есть та, которая делает себя излишней.» *В. Гумбольдт*



«Чтобы _____ стала сильнее, следует ее ограничить.» *Л. Берне*

«_____ чисел тем могущественнее, чем меньше в них разбираются.» *Вольтер*

Место для ответа:

Задание 6. Изучите представленные ниже изображения и выполните задания. Распределите изображения на три группы. Укажите буквенные обозначения изображений, составляющих каждую группу. Укажите, что объединяет изображения в каждой группе, на основании установленного Вами общего основания для классификации. Какое изображение не относится ни к одной из трех групп? (10 баллов)


	
А	Б
	
В	Г
	
Д	Е
	
Ж	З

	
И	К

Место для ответа:

	<i>Критерий</i>	<i>№№ изображений</i>
Группа 1		
Группа 2		
Группа 3		
Лишнее		

Задание 7. Решите кроссворд (10 баллов)



По горизонтали: **1.** Способность человека целенаправленно, обобщенно и оценочно отражать реальность в чувственных и логических образах. **3.** Позиция, поведение человека, полностью ориентированные на его «Я», на его благо. **4.** Приобретение знаний путём самостоятельных занятий вне школы, без помощи учителя. **6.** Результат полезной деятельности предприятий и отдельных лиц, направленной на удовлетворение определенных потребностей населения и общества. **8.** Человек, способный объединить людей для достижения определенной цели.

По вертикали: **2.** Одна из ранних форм религии, выражающая веру в существование духов, одухотворение сил природы, животных, растений и неодушевленных предметов, приписывание им разума и сверхъестественного могущества. **5.** Способ организации и осуществления власти в обществе, основанный на неограниченной власти одного правителя. **7.** Учение о красоте, прекрасном. **9.** Коренное, качественное изменение в основах каких-либо явлений, природы, общества или познания. **10.** Организация, имеющая политические цели, определенную программу экономического, социального развития общества или какой-то его части.