

*Дорогой друг! Сегодня у тебя очень важный и ответственный день. Тебе предоставляется возможность стать успешным, участвуя в олимпиадном движении. Думай, анализируй, выбирай, будь внимательным и у тебя всё получится! Удачи!*

### ЧАСТЬ 1

- Выбери и обведи букву правильного ответа
- Проверь. Если ошибся, то зачеркни ошибку и выбери другой ответ.

**1. По территории России проходит единственная в мире сухопутная граница между двумя частями света. Что она разделяет?**

- А) Европу и Америку                      Б) Азию и Антарктиду  
В) Европу и Африку                      Г) Европу и Азию

**2. На Земле их всего шесть. Что это?**

- А) океаны                      Б) вулканы                      В) материки                      Г) острова

**3. Какое царство не относится к живой природе?**

- А) бактерий                      Б) грибов                      В) животных                      Г) льда

**4. К какому классу животных относятся тритоны, жабы и лягушки?**

- А) рептилии                      Б) амфибии                      В) пресмыкающиеся                      Г) насекомые

**5. Напиши под картинкой название лесной ягоды, которая созревает первой?**



А)

Б)

В)

Г)

**6. На чём писали древние славяне?**

- А) на бересте                      Б) на бумаге                      В) на глиняных дощечках                      Г) на папирусе

**7. В каком городе нашей страны работает президент В. Путин и правительство Российской Федерации?**

- А) в Екатеринбурге                      Б) в Новгороде                      В) в Санкт-Петербурге                      Г) в Москве





**8. Как называется профессия людей, которые ищут месторождения полезных ископаемых?**

- А) копатели                      Б) геологи                      В) искатели                      Г) географы

**9. Что быстрее всего сгниет и не причинит вреда окружающей среде?**

- А) стеклянная бутылка                      Б) пластиковый пакет  
 В) бумажная упаковка                    Г) металлическая банка

**10. В зоне какого дорожного знака пешеходы могут переходить дорогу?  
 Напиши название этого знака под картинкой.**

			
А)	Б)	В)	Г)

**ЧАСТЬ 2**

**11. Ребятам предложили разделить животных на три группы. Ира разделила так:**

- А) заяц, тетерев, жук-короед – .....  
 Б) стрекоза, лисица, щука – .....  
 В) ласточка, лягушка, крот – .....

**Дай общее название каждой группе животных.**

**12. Соотнеси стрелками, к какой системе организма относятся перечисленные органы человека.**

1.Пищеварительная система		А) трахея
2.Нервная система		Б) головной мозг
3.Кровеносная система		В) мочевого пузыря
4.Дыхательная система		Г) кишечник
5.Выделительная система		Д) сердце

**13. Расположи факты по порядку от причины к следствию.**

- А) Обилие комаров  
 Б) Вода не просачивается в почву  
 В) Слой вечной мерзлоты  
 Г) Никогда не бывает прямых солнечных лучей  
 Д) Образование болот

- 1) Запиши буквы правильной последовательности .....  
 2) Какой природной зоне соответствует это описание?

.....

**14. Узнай растение по описанию и запиши ответ.**

Это травянистое растение называют «солнечным цветком». У него шершавый стебель и крупные жёлтые цветки. В нашу страну растение завезли при Петре Первом. Вскоре оно стало главным масленичным растением.

Это .....

15. Разгадай ребус. Запиши слово, которое загадано в ребусе?



На чём работает человек этой профессии?

- А) на машине                      Б) на локомотиве  
В) на экскаваторе              Г) на комбайне

**ЧАСТЬ 3 «Мой край»**

16. Отметь «+» современный герб города Челябинска.

А)	Б)	В)	Г)

17. Первая улица старого Челябинска носила имя Сибирская. Как она называется в настоящее время?

- А) улица Кирова                      Б) проспект Ленина  
В) улица Труда                      Г) улица Российская

18. Напиши 5 названий птиц нашего края, начинающихся на букву «с».

.....  
.....

19. Отметь группу полезных ископаемых, которые не добывают в Челябинской области.

- А) глина, известняк, бурый уголь  
Б) мрамор, гранит, песок  
В) нефть, природный газ, каменный уголь  
Г) железная руда, медная руда, никелевая руда

20. Этот памятник установлен в Челябинске 9 мая 1975 года в честь 30-летия победы над фашистами.

Как он называется?

.....

Где этот памятник расположен в нашем городе?

.....

.....

