

ШИФР

Городской тур (итоговый) олимпиады младших школьников по окружающему миру (4 класс)  
2019-2020 учебный год

*Дорогой друг! Сегодня у тебя очень важный и ответственный день. Тебе предоставляется возможность стать успешным, участвуя в олимпиадном движении. Думай, анализируй, выбирай, будь внимательным и у тебя всё получится! Удачи!*

**ЧАСТЬ 1**

- **Выбери и обведи букву правильного ответа.**
- **Проверь. Если ошибся, то зачеркни ошибку и выбери другой ответ.**

- 1.1. К какому виду относится календарь, которым мы пользуемся?**  
А) солнечный      Б) лунный      В) юлианский      Г) григорианский
- 1.2. Какого газа больше других входит в состав воздуха нашей планеты?**  
А) азот      Б) кислород      В) углекислый газ      Г) водород
- 1.3. Какой камень после обработки называют бриллиантом?**  
А) рубин      Б) алмаз      В) гранат      Г) изумруд
- 1.4. Что в экологии называют «невидимыми» нитями?**  
А) взаимодействие человека с природой      Б) параллели и меридианы  
В) цепи питания      Г) подземную часть грибов
- 1.5. Какое животное является символом Всемирного фонда дикой природы?**  
А) слон      Б) кит      В) бегемот      Г) панда
- 1.6. Какой овощ называют «золотое яблоко»?**  
А) лук      Б) тыква      В) помидор      Г) перец
- 1.7. Какая из лисиц является обладательницей самых больших ушей?**  
А) лисица обыкновенная      Б) фенёк      В) корсак      Г) песец
- 1.8. Подчеркни неверное высказывание:**  
А) Волгоград – город-герой.  
Б) Штурм Берлина начался летом 1943 года.  
В) Нашей армией руководил маршал Георгий Жуков.  
Г) За время войны погибло более 26 миллионов граждан нашей страны.

## Часть 2

2. В российском «Лесном словаре» XIX века записано: «Дерево это поставлено на той же ступени, на какой лев находится между четвероногими, а орёл между птицами». О каком дереве идёт речь? Ответ: \_\_\_\_\_.

3. Хищник необыкновенной красоты, похожий на огромную кошку. Живёт в странах Азии и на Дальнем Востоке нашей страны. Преследуя добычу, делает прыжки до 5 и 7 метров. Охота на него запрещена, так как численность особей этого вида сокращается. Кто это? Ответ: \_\_\_\_\_.

4. Наша планета постоянно изменяется: возникают овраги, разрушаются горы, на их месте образуются равнины. Учёные говорят, что изменение поверхности Земли – это результат работы трёх великих мастеров. Что это за мастера?

Ответ: 1 – \_\_\_\_\_, 2 – \_\_\_\_\_, 3 – \_\_\_\_\_.

5. Лесник шёл по берегу реки Осиновой вверх по течению. Река текла слева от него. Лесник дошёл до места впадения в реку ручья и поднялся по ручью к роднику, откуда он вытекал. Можно сказать, что он:

- А) вышел к устью реки;                                  Б) прошёл вдоль левого притока реки;  
В) прошёл вдоль правого притока реки;       Г) вышел к истоку реки;  
Д) вышел к истоку ручья

Выбери буквы правильных ответов и запиши их: \_\_\_\_\_.

6. Мама принесла из магазина репчатый лук, положила его в бумажный пакет, а пакет убрала в шкаф. Через несколько дней она достала лук и увидела, что у нескольких луковиц проросли листья и корни.

1) Подумай, какое условие повлияло на прорастание лука?

Ответ: \_\_\_\_\_.

2) Объясни, почему репчатый лук и картофель прорастают в темноте без высадки их в почву или воду, а фасоль и горох не прорастают?

Ответ: \_\_\_\_\_

\_\_\_\_\_

\_\_\_\_\_

7. Эскимосы надевают одежду из шкур мехом прямо на тело, кожей наружу. Почему такая одежда лучше всего защищает их от холода и ветра?

Ответ: \_\_\_\_\_

\_\_\_\_\_

8. Установи соответствие между представителями царства растений и природной зоной, соединив их линиями.

1) растения низкорослые, с мелкими листьями

А) пустыня

2) растения имеют очень длинные корни

Б) степь

3) растения составляют 3-4 яруса

В) тундра

4) сплошной травянистый растительный покров

Г) лес

9. Вставь пропущенные слова по смыслу, чтобы получился рассказ:

Солнечные \_\_\_\_\_ нагревают поверхность нашей планеты. С поверхности водоёмов и почвы \_\_\_\_\_ поднимается в виде \_\_\_\_\_ высоко вверх и, охлаждаясь, образует множество капель или крошечных льдинок. Из них образуются \_\_\_\_\_, которые ветер переносит на большое расстояние. Из них \_\_\_\_\_ возвращается на землю в виде \_\_\_\_\_, \_\_\_\_\_ или \_\_\_\_\_. Потом всё это повторяется заново. Это вечное движение называется \_\_\_\_\_ в природе.

10. Соедини последовательно стрелками названия органов, через которые проходит пища:

пищевод

глотка

рот

кишечник

желудок

11. Отметь пословицы, которые напоминают правила безопасного поведения знаком (+), а пословицы о правилах укрепления здоровья знаком (V).

- 1. Лучше нагнуть голову, чем разбить лоб. (английская)
- 2. Мойся белее, будешь здоровее. (русская)
- 3. Закалённым стать, болезней не знать. (русская)
- 4. Не ударишь собаку, она не укусит. (армянская)
- 5. И тонкая веточка может глаз выколоть. (японская)
- 6. Кто спортом занимается, тот силы набирается. (русская)
- 7. Тем не играют, от чего умирают. (русская)

12. Подпиши, какие исторические личности запечатлены в этих памятниках, укажи их историческую роль.



13. Собери из букв **Н И Л В О Г А Б Ь Е С Й Д У Р М** семь названий крупных рек России (букву можно использовать несколько раз)

\_\_\_\_\_

\_\_\_\_\_

### Часть 3

14. В каком году была заложена крепость «Челяба»?  
Ответ: \_\_\_\_\_.

15. Подчеркни верные предложения:

1. На западе Челябинская область граничит с республикой Башкортостан.
2. Урал - самая крупная река Челябинской области.
3. Чтобы из Челябинска попасть в Москву, надо ехать на восток.
4. Город Магнитогорск находится в южной части нашего края.
5. В Челябинске пять районов.


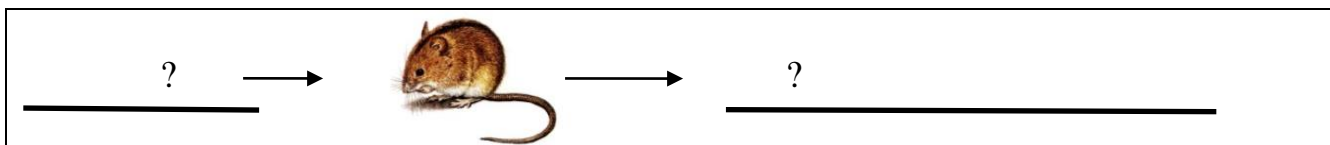
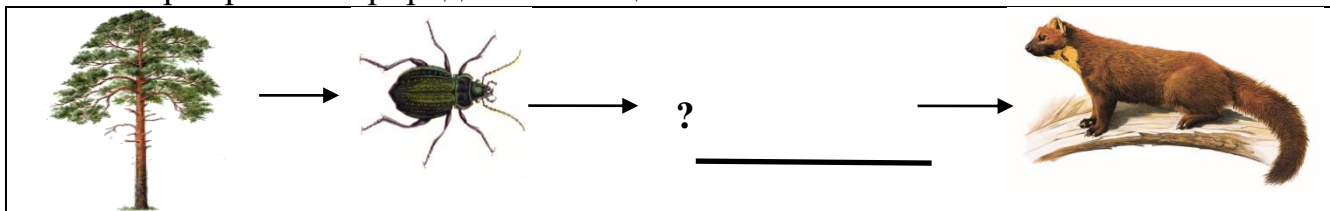
16. Какая отрасль промышленности нашей области обеспечивает людей сталью, чугуном, медью, алюминием? Ответ: \_\_\_\_\_.

17. Подпиши названия памятников, посвящённых Великой Отечественной войне, которые установлены в Челябинске.



\_\_\_\_\_

18. Допиши недостающее звено цепи питания представителями живой природы нашего края разных природных сообществ.



**Критерии проверки  
городского (итогового) этапа  
олимпиады младших школьников  
по окружающему миру  
2019-2020 учебный год**

№ зада ния	Правильный ответ	Максимальное количество баллов
<b>ЧАСТЬ 1</b>		
1.1	Г) григорианский	<b>1 балл</b>
1.2	А) азот	<b>1 балл</b>
1.3	Б) алмаз	<b>1 балл</b>
1.4	В) цепи питания	<b>1 балл</b>
1.5	Г) панда	<b>1 балл</b>
1.6	В) помидор	<b>1 балл</b>
1.7	Б) фенёк	<b>1 балл</b>
1.8	Б) Штурм Берлина начался летом <b>1943</b> года.	<b>1 балл</b>
	<i>Всего</i>	<b>8 баллов</b>
<b>ЧАСТЬ 2</b>		
2.	Дуб	<b>1 балл</b>
3.	Амурский (уссурийский или дальневосточный) тигр	<b>1 балл</b>
4.	Вода, солнце, ветер	<b>1 балл</b>
5.	<b>Б)</b> прошёл вдоль левого притока реки; <b>Д)</b> вышел к истоку ручья.	<b>2 балла</b>
6.	1) <i>Тепло.</i>  2) <i>Семена</i> фасоли и <i>гороха сухие</i> , а в луковице и клубне картофеля <i>есть запасы воды и питательных веществ</i> , которые необходимы для прорастания.	1) <b>1 балл</b>  2) <b>2 балла</b>
7.	<i>Кожа</i> снаружи <i>защищает от ветра</i> , а между ворсинками меха <i>много воздуха, поэтому такая одежда хорошо сохраняет тепло</i> у тела человека.	<b>2 балла</b>
8.	1-В, 2-А, 3-Г, 4-Б	<b>2 балла</b>
9.	Солнечные <b>лучи</b> нагревают поверхность нашей планеты. С поверхности водоёмов и почвы <b>вода</b> поднимается в виде <b>водяного пара</b> высоко вверх и, охлаждаясь, образует множество капель или крошечных льдинок. Из них образуются <b>облака</b> , которые ветер переносит на большое расстояние. Из них <b>вода</b> возвращается на землю в виде <b>дождя</b> , <b>снега</b> или <b>града</b> . Это вечное движение называется <b>круговорот воды</b> в природе.	<b>3 балла</b>
10.	Рот – глотка – пищевод – желудок – кишечник	<b>1 балл</b>
11.	Безопасное поведение (+): <b>1, 4, 5, 7</b> Укрепление здоровья (V): <b>2, 3, 6</b>	<b>2 балла</b>
12.	<b>1) Кузьма Минин и Дмитрий Пожарский</b> - организаторы народного ополчения для освобождения Москвы от поляков; <b>2) Первопечатник Иван Фёдоров;</b> <b>3) Русский царь Пётр I;</b>	<b>4 балла</b>

	<b>4) Первый космонавт–<i>Юрий Гагарин</i></b>	
13.	Реки: Волга, Обь, Енисей, Амур, Нева, Лена, Урал.	<b>3,5 балла</b>
	<b><i>Всего</i></b>	<b><i>25,5 баллов</i></b>
<b>ЧАСТЬ 3</b>		
14.	В 1736 году	<b>1 балл</b>
15.	1, 2, 4	<b>2 балла</b>
16.	Металлургическая	<b>1 балл</b>
17.	1. Памятник <b><i>танкистам-добровольцам</i></b> Челябинска. 3. Памятник « <b><i>Скорбящие матери</i></b> » в составе мемориального комплекса с братскими могилами « <b><i>Память</i></b> »	<b>2 балла</b>
18.	1. Дятел (поползень, пищуха). 2. Зерновые травы, лиса (ласка, горностай, сова, змея, ёж, ястреб и др.). 3. Щука (судак, окунь и другие хищные рыбы)	<b>4 балла</b>
	<b><i>Всего</i></b>	<b><i>10 баллов</i></b>
	<b><i>Итого</i></b>	<b><i>43,5 баллов</i></b>