


Дорогой друг! Сегодня у тебя очень важный и ответственный день. Тебе предоставляется возможность стать успешным, участвуя в олимпиадном движении. Думай, анализируй, выбирай, будь внимательным и у тебя всё получится! Удачи!

**Часть 1**

**Выбери и обведи букву правильного ответа.**

**Проверь. Если ошибся, то зачеркни ошибку и выбери другой ответ.**

- 1.1. Какое государство расположено не на территории Европы?  
А) Босния и Герцеговина    Б) Азербайджан    В) Венесуэла    Г) Молдова
- 1.2. Какой орган нашего тела имеет самую большую площадь?  
А) печень    Б) кишечник    В) лёгкие    Г) кожа
- 1.3. Укажи день весеннего равноденствия:  
А) 1 марта    Б) 20 марта    В) 1 апреля    Г) 22 апреля
- 1.4. Детёныш какого животного рождается уже зрячим?  
А) лиса    Б) белка    В) бобр    Г) корова
- 1.5. Какое заболевание не передаётся воздушно-капельным путём (т.е. не из-за вдыхания воздуха, наполненного бактериями и вирусами, которые выделяются больным при кашле, чихании, разговоре)?  
А) корь    Б) ветряная оспа    В) аллергия    Г) грипп
- 1.6. Как называется природная зона России, представляющая собой равнины, покрытые плотным высоким травяным покровом, с редко произрастающими деревьями и кустарниками?  
А) степь    Б) пустыня    В) тундра    Г) лес
- 1.7. Как называется первый музей России?  
А) Оружейная палата    Б) Кунсткамера  
В) Эрмитаж    Г) Русский музей
- 1.8. О чем предупреждает данный дорожный знак?  
 А) въезд запрещён  
Б) парковка запрещена  
В) остановка запрещена  
Г) впереди однопутная железная дорога
- 1.9. Многие современные фамилии произошли от старинных имен, распространенных в Древней Руси. Какая фамилия произошла НЕ от имени?  
А) Прокопьев    Б) Тихонов    В) Жихарев    Г) Никаноров
- 1.10. Какое дерево в воде тонет и не гниёт?  
А) сосна    Б) берёза    В) лиственница    Г) дуб

## Часть 2

2. С какой целью используется данный инженерный комплекс?



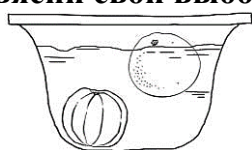
Ответ: \_\_\_\_\_

\_\_\_\_\_

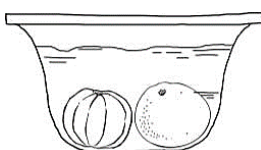
\_\_\_\_\_

3. Языческий бог плодородия и солнечного света, лета и счастья, живительной силы, а в московской мифологии он считается предком князей и вообще русских людей – это \_\_\_\_\_.

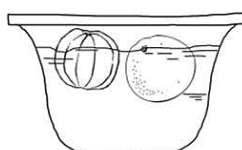
4. В миску с холодной водой опустили два апельсина: один очищенный от кожуры, другой неочищенный. Какую картинку после этого можно увидеть? Объясни свой выбор.



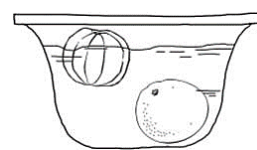
1)



2)



3)



4)

Ответ: \_\_\_\_\_

5. Как называется наука, изучающая тело человека?

Ответ: \_\_\_\_\_

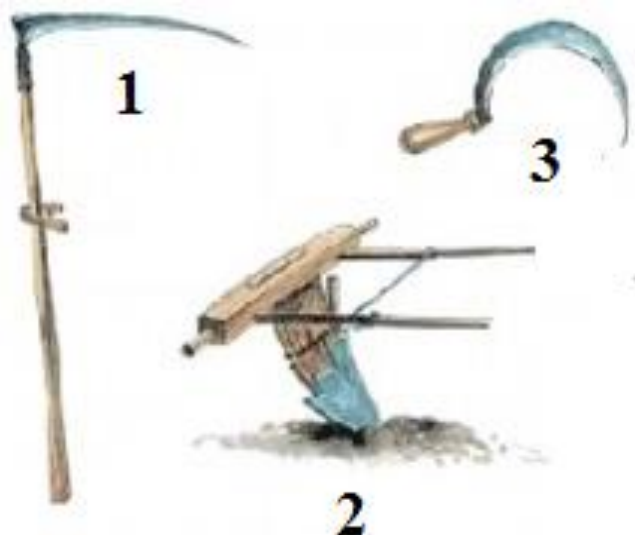
6. Соотнеси историческую личность и сферу, в которой он прославился.

1. Франческо Бартоломео Растрелли		А. Живопись
2. Алексей Гаврилович Венецианов		Б. Поэзия
3. Василий Андреевич Жуковский		В. Архитектура
4. Пётр Ильич Чайковский		Г. Музыка

7. Как называлась единственная транспортная магистраль, проложенная через Ладожское озеро, по которой во время блокады Ленинграда осуществлялось снабжение окружённой советской группировки войск и гражданского населения города?

Ответ: \_\_\_\_\_

8. Посмотри на картинки и напиши названия крестьянских орудий для сельскохозяйственного труда.



1. \_\_\_\_\_
2. \_\_\_\_\_
3. \_\_\_\_\_

9. «Питание человека, которое учитывает его физиологические потребности в энергетической ценности, полезных питательных веществах (белки, жиры, углеводы, витамины, минералы, микроэлементы, другие полезные вещества) основываясь на данных о возрасте, заболеваниях, физической активности, занятости, окружающей среде». О каком питании идёт речь?


Ответ: \_\_\_\_\_.

10. Запиши, в таблицу номера имен исторических личностей под соответствующие буквы с названием государства в годы их правления:

- |                             |                           |
|-----------------------------|---------------------------|
| 1. Пётр I                   | А. Древняя Русь           |
| 2. Владимир Красно Солнышко | Б. Московское государство |
| 3. Иван IV                  | В. Российская империя     |

Название государства	А	Б	В
Имя исторической личности			

11. В каких городах находятся эти памятники? Укажи их названия.



1. \_\_\_\_\_
2. \_\_\_\_\_
3. \_\_\_\_\_

12. На картинке В.А. Серова изображена выдающаяся личность, которая внесла неоспоримый вклад в развитие нашего государства. А.С. Пушкин писал о нём:

*То академик, то герой,  
То мореплаватель, то плотник,  
Он всеобъемлющей душой  
На троне вечный был работник.*

О ком идёт речь? Ответ: \_\_\_\_\_.



Часть 3 «Мой край»

13. Этот город расположен в Челябинской области и имеет название, которое читается одинаково как слева направо, так и справа налево. О каком городе идёт речь?

Ответ: \_\_\_\_\_.

14. Соотнеси «поэтическое» название озера Челябинской области, и его настоящее название.

Уральская Рица
Голубая жемчужина Урала
Озеро-родник, младший брат Байкала

Тургояк
Увильды
Зюраткуль

15. В начале XX века Челябинск стал городом, который прочно ассоциировался с растением, которое человек активно употреблял каждый день. Данное растение в городе или его окрестностях не выращивалось, а лишь расфасовывалось. В городе было четыре фабрики, на которые данное растение доставлялось в сухом виде, фасовалось по коробкам, и отправлялось в магазины по всей стране. О каком растении идёт речь?

Ответ: \_\_\_\_\_.

16. Эта горная порода используется для отделки зданий. В Челябинске из этой породы построен театр драмы имени Наума Орлова, а в Москве – храм Христа Спасителя. О какой горной породе идёт речь?

Ответ: \_\_\_\_\_.

17. В какой сфере деятельности прославились наши земляки? Запиши в таблицу под буквами имен выдающихся людей, родившихся в Челябинской области, номера сфер деятельности, в которых данные личности прославились.

- |                     |           |
|---------------------|-----------|
| А. Лидия Скобликова | 1. Наука  |
| Б. Олег Митяев      | 2. Спорт  |
| В. Игорь Курчатов   | 3. Музыка |

Имя, фамилия	А	Б	В
Сфера деятельности			

18. Какое неофициальное название получил Челябинск в годы Великой Отечественной войны? Почему?

Ответ: \_\_\_\_\_  
\_\_\_\_\_  
\_\_\_\_\_.

19. О каком национальном парке, расположенном на территории Челябинской области, идет речь в тексте?

Национальный парк расположен в западной части Челябинской области, в 130 км от областного центра и примыкает к границе Европы с Азией. Уникальность национального парка в том, что здесь на относительно небольшом участке суши встречаются вместе животные и растения, характерные для центральной полосы Европейской России, русского Севера, Поволжья, Урала, Западной и Центральной Сибири, Казахстана. На территории парка почти нетронутыми сохранились ценные экологические системы – горные тундры и луга, подгольцовые редколесья и реликтовые леса. На территории национального парка имеется ряд уникальных географических объектов: горные хребты Большой \_\_\_\_\_, Средний \_\_\_\_\_, Малый \_\_\_\_\_, гора Александровская сопка (Уральский хребет, 843 м), Большая Каменная река.

Ответ: \_\_\_\_\_.