

Часть 1. Лента времени.

1. Прочитайте название исторических событий. Укажите дату исторического события. Запишите римскими цифрами век, в котором произошло данное событие.

Событие	Дата	Век
Крещение Руси		
Основание г. Москва		
Первый полет человека в космос		

Справочный материал. Римские цифры

1 I	11 XI
2 II	12 XII
3 III	13 XIII
4 IV	14 XIV
5 V	15 XV
6 VI	16 XVI
7 VII	17 XVII
8 VIII	18 XVIII
9 IX	19 XIX
10 X	20 XX

2. Для Челябинской области 2023 год богат на знаменательные даты и события. В ноябре этого года исполнилось 250 лет городу Миасс Челябинской области.

Вычислите дату основания г. Миасса.

3. Расположите имена исторических деятелей в хронологическом порядке их жизни и деятельности. Запишите буквы, которыми обозначены имена исторических деятелей, в правильной хронологической последовательности в таблицу.

А) Александр Невский;

Б) Дмитрий Донской;

В) Юрий Долгорукий;

Г) Рюрик;

Д) Владимир – Красно Солнышко.

1	2	3	4	5

Часть 2. Смысловые ряды.

Определите принцип образования ряда. Что или кто является лишним в ряду? Лишнее слово подчеркните. Свой выбор объясните (напишите, почему вы так считаете).

1. Суздаль, Ярославль, Кострома, Тула, Владимир.

2. Петр I, Александр I, Александр II, Николай I, Николай II.

Часть 3. Тестовые вопросы.

1. В какую историческую эпоху появились первые люди на территории Южного Урала?

А) палеолит; Б) мезолит; В) бронзовый век.

2. Как звали русского князя, который в X в. принял христианство в качестве официальной религии?

А) Александр Невский;
Б) Владимир – Красно Солнышко;
В) Дмитрий Донской.

3. Во время правления этого царя в Русском государстве появилось книгопечатание. Укажите его имя.

А) Алексей Михайлович;
Б) Иван III;
В) Иван IV Грозный.

4. В каком году была основана Крепость Челябин?

А) 1732 г.; Б) 1736 г.; В) 1738 г.

5. Метеориты падают на Землю с завидной регулярностью: с 1860 по 2018 год зафиксировано 938 случаев. В каком году в небе над Южным Уралом произошёл взрыв метеорита?

А) 2011 г.; Б) 2013 г.; В) 2015 г.

Часть 4.

Историк должен правильно писать исторические понятия и термины. Впишите буквы вместо пропусков. Найдите в списке значения этих терминов/понятий и впишите каждый в таблицу напротив определения.

А) _ЗЫЧ_СТВ_;

Б) З_ДЧ_СТВ_;

В) КР_СТ_НОСЦЫ.

Буква понятия/ термина	Объяснение значения термина и понятия
	Европейские рыцари - участники походов на Святую землю и Русское государство в XI – XIII вв.
	Вера во множество богов, олицетворявших силы природы.
	Искусство строить и проектировать здания. Сегодня под этим термином обычно понимают древнерусскую архитектуру IX–XIII веков - от зарождения русского государства до монголо-татарского ига.

Часть 5. Историческая карта.

Прочитайте фрагмент летописи. Рассмотрите карты-схемы и иллюстрации.

О каком событии идет речь в летописи?

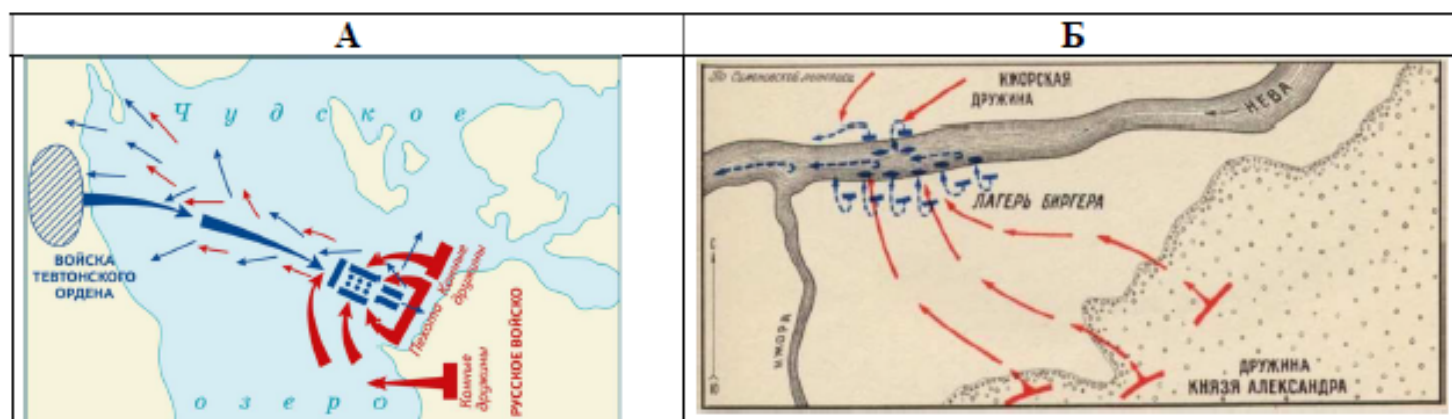
Описание события из 1-ой Новгородской летописи старшего извода:

«Узрев же князь Олександр и Новгородци, поставиша полк на Узмени, у Ворожья камени. И наехаша на полк Немци, и прошибошася свиньею сквозе полк. И бысть сеча ту велика с Немцем... А Немци ту падоша, ... и, гоняче, биша их на 7-ми верст по леду до Суболичьскаго берега.»



Название события: _____.

Дата события: _____.

Какая карта-схема подходит к описанному в летописи событию? _____



Укажите иллюстрацию, на которой изображено описанное событие.

Иллюстрация	Буква
	А.
	Б.

Часть 6. Работа с текстом.

Прочитайте текст. Вставьте в текст пропущенные слова из приведенного ниже списка (у вас останутся неиспользованные элементы). Ответ запишите в таблицу.

Список элементов для выбора ответа

вместо пропусков:

А) Красная Площадь;

Б) 1945 г.;

В) Кремль;

Г) Успенский;

Д) XV в.;

Е) Благовещенский;

Ж) 1812 г.;

З) Спасская;

И) Царь-колокол;

К) Храм Василия Блаженного;

Л) 1147 г.;

М) Архангельский;

Н) XVI в.;

О) Царь-пушка;

П) Боровицкая;

Р) Храм Христа Спасителя.

Москва - столица Российской Федерации. В летописи в (1.) _____ году впервые появилась запись о Москве. Её территориальное расположение в самом сердце русских земель было очень удобным и выгодным для торговли, что послужило причиной роста и процветания города.

С середины (2.) _____ века Москва становится столицей Российского государства.

Больше всего разрушений домов, церквей и монастырей связано с оккупацией Москвы во время Отечественной войны (3.) _____ года. Темной сентябрьской ночью озарилась Москва светом тысяч факелов и пламенем сотен костров.

Центром Москвы является (4.) _____. В разные годы на ней выставлялись торговые ряды, осуществлялись казни. С неё Красная армия отправлялась на фронт в ноябре 1941 года. Тут же отмечали день победы над Германией в (5.) _____ году.

Древней частью Москвы является (6.) _____. На его территории расположены известные на весь мир соборы: (7.) _____, (8.) _____ и (9.) _____. Самое почетное место среди башен занимает (10.) _____, на которой находятся куранты. Также здесь находятся (11.) _____ и (12.) _____. Название такое было присвоено этим памятникам из-за их большого размера.

Одним из красивейших храмов Москвы является (13.) _____. Этот собор имеет разноцветные купола, и на каждом из них находятся индивидуальные росписи, а сам храм имеет множество окон и арок. Построен этот храм в (14.) _____ веке по случаю взятия Иваном Грозным г. Казани.

Подводя итог, можно сказать, что Москва - очень большой и красивый город с множеством достопримечательностей. И поэтому хоть раз в жизни следует посетить Москву, и эмоции от увиденного запомнятся на всю жизнь.

Ответ:

1	2	3	4	5	6	7

8	9	10	11	12	13	14