

**Муниципальный этап всероссийской олимпиады школьников
по истории
2019-2020 учебный год
10-11 класс**

Максимальный балл – 100

Задание 1. Соотнесите названия улиц города Челябинска, данных в честь героев и факты, связанные с их деятельностью в годы Великой Отечественной войны. Ответ внесите в таблицу (2 балла за правильное соответствие, максимально за задание – 10 баллов)

<p align="center">1.</p>  <p>УЛИЦА НАЗВАНА ИМЕНЕМ ЕВГЕНИЯ ВАСИЛЬЕВИЧА ОВЧИННИКОВА ВОСПИТАНИКА ЧЕЛЯБИНСКОГО КОМСОМОЛА ВОЕННОГО ЛЕТЧИКА ПОГИБШЕГО ПРИ ВЫПОЛНЕНИИ БОЕВОГО ЗАДАНИЯ 17 ЯНВАРЯ 1943 ГОДА</p>	<p>А. Добровольцем ушёл на фронт. В боях за город Подволочинск и посёлок Фридриховка (Западная Украина) подбил три танка. Был дважды ранен, но не покинул поле боя. Пропал без вести 23 февраля 1945 года при форсировании реки Одер. Ему было 19 лет.</p>
<p align="center">2.</p>  <p>УЛИЦА НАЗВАНА ИМЕНЕМ ГЕРОЯ СОВЕТСКОГО СОЮЗА НИКОЛАЯ АЛЕКСАНДРОВИЧА ХУДЯКОВА. РАБОЧЕГО ЗАВОДА МЕРИТЕЛЬНЫХ ИНСТРУМЕНТОВ БРОНЕБОЙЩИКА УРАЛЬСКОГО ДОБРОВОЛЬЧЕСКОГО ТАНКОВОГО КОРПУСА ГЕРОЙСКИ ПОГИБШЕГО В 1945</p>	<p>Б. Родился в Челябинске. Принимал участие в Сталинградской битве, в освобождении Брянска и Орла. 17 января 1943 года на своём По-2 («кукурузник») должен был передать пакет для 3-й танковой армии, прорвавшейся во вражеский тыл. На обратном пути его самолёт сбили. Летчик попал в плен и был расстрелян. Бюст героя установлен школой, в которой он учился.</p>
<p align="center">3.</p>  <p>НИКОЛАЙ СТЕПАНОВИЧ ЖУКОВ ГЕРОЙ СОВЕТСКОГО СОЮЗА</p>	<p>В. Уроженец села Коелга участвовал ещё в боях с японцами на реке Халхин-Гол в 1939 году. С июня 1941 года - на фронтах Великой Отечественной войны. Командовал батальоном. Отличился в марте 1944 года в боях у украинского города Проскурова. В ходе боя под его руководством уничтожено 9 противотанковых и 23 самоходных орудия, 10 танков, 30 пулемётов противника. Погиб за три недели до Победы.</p>
<p align="center">4.</p>  <p>УЛИЦА НАЗВАНА ИМЕНЕМ ИЛЬИ ФЕДОРОВИЧА ЗАХАРЕНКО НАЧАЛЬНИКА ПОЛИТОТДЕЛА УРАЛЬСКОГО ДОБРОВОЛЬЧЕСКОГО ТАНКОВОГО КОРПУСА ПОГИБШЕГО В 1945 ГОДУ</p>	<p>Г. Родился 3 июня 1919 года в городе Челябинске в рабочей семье. Окончил 7 классов школы и школу ФЗУ при тракторном заводе. Воевал в штурмовой авиации. В 16 воздушных боях сбил 7 самолётов противника. Погиб 30 мая 1944 года при возвращении с задания (в его самолёт попал снаряд). Сейчас на стене школы № 58 есть мемориальная доска, а на здании ПТУ-1 - барельеф героя</p>

5.



Д. Офицер-танкист участвовал в формировании 96-й танковой бригады в Челябинске, стал заместителем комбрига. В начале 1943 года бригада была почти полностью уничтожена у деревни Пузачи Курской области. Офицер вынес из боя знамя бригады, чем спас её от расформирования. Был ранен в начале Берлинской операции и умер вскоре после окончания войны.

Ответ:

А	Б	В	Г	Д

Задание 2. Соотнесите элементы правого и левого столбцов таблицы. (по 1 баллу за каждое соответствие, максимальный балл – 8).

2.1. Установите соответствие между реформами, преобразованиями, мероприятиями и именами российских политических деятелей – авторами этих реформ.

Реформы, преобразования

- а) разработка проекта о созыве выборных от земств
- б) подготовка отмены крепостного права в конце 1850-х гг.
- в) основание военных поселений
- г) проект созыва представительного органа – Государственной думы

Политические деятели

- 1. М.М. Сперанский
- 2. М.Т. Лорис-Меликов
- 3. Н.А. Милютин
- 4. Г.А. Потёмкин
- 5. А.А. Аракчеев

2.2. Установите соответствие между сражениями Великой Отечественной войны и их датами.

Сражения

- а) под Смоленском
- б) 2-я битва за Харьков
- в) форсирование Днепра
- г) освобождение Минска

Даты

- 1. 1944 г.
- 2. 1943 г.
- 3. 1942 г.
- 4. 1941 г.
- 5. 1945 г.

Ответ:

№	а	б	в	г
2.1				
2.2				

Задание 3. Определите хронологическую последовательность событий. Ответ запишите в виде последовательности букв (2 балла за задание)

- а) закладка Софийского собора в Киеве
- б) победа Ярослава Мудрого над печенегами
- в) битва под Черниговым между Мстиславом Тмутараканским и Ярославом Мудрым
- г) назначение первого русского митрополита Илариона
- д) Основание г.Юрьева (совр. Тарту) в чудской земле
- е) изгнание Святополка Окаянного

Ответ: _____

Задание 4. В предложенном ряду советских конструкторов обозначьте того, кто не принадлежал к числу авиаконструкторов (1 балл за задание)

С. Ильюшин, С. Лавочкин, Н. Поликарпов, А. Туполев, М.Кошкин, А. Яковлев

Ответ: _____

Задание 5. Заполните пробелы в тексте. Ответ оформите в виде перечня элементов под соответствующими номерами (1 балл за каждый правильно заполненный пропуск, максимальный балл – 12).




Осенью 1905 года центром революционного движения стала Москва. Верховная власть была вынуждена пойти на уступки. _____ (1 – число, месяц, год) _____ царь подписал Манифест «_____ (2- название)_____». Этот документ провозглашал дарование народу гражданских прав. Было обещано образовать новый орган власти - _____ (3)_____ и привлечь к выборам в нее те слои населения, которые не имели избирательных прав. Указом царя по типу европейских кабинетов министров создано объединенное коллегиальное правительство - _____ (4)_____. Первым его председателем был назначен _____ (5–ФИО)_____. Во время революции организационно оформились либеральные партии. Радикальные либеральные силы представляла _____ (6 – название партии)_____. Лидером партии был историк _____ (7 – ФИО)_____. Умеренное крыло либерального движения представляла партия _____ (8 – название партии)_____. Председателем Центрального комитета партии был избран фабрикант _____ (9- ФИО)_____.

27 апреля 1906 года состоялось торжественное открытие I Государственной думы. Ее председателем был избран профессор Московского университета _____ (10- ФИО)_____. Выборы в думу бойкотировали _____ (11 – название партии)_____ и _____ (12 – название партии)_____.

Ответ:

- 1 _____
- 2 _____
- 3 _____
- 4 _____
- 5 _____
- 6 _____
- 7 _____
- 8 _____
- 9 _____
- 10 _____
- 11 _____
- 12 _____

Задание 6. Что объединяет представленных ниже исторических деятелей? Дайте краткое обоснование ряда. Изображения подпишите, указав имена деятеля и главы государства, во время которого он занимался активной политической деятельностью (7 баллов за задание).

		
А	Б	В

Обоснование ряда: _____

Задание 7. Прочитайте отрывок из исторического документа и ответьте на вопросы (максимальный балл – 15)

В первом послании Андрея Курбского Ивану Грозному содержатся такие строки: «Царю, Богом препрославленному и более того – среди православных пресветлым явившемуся, ныне же – за грехи наши – ставшему супротивным (пусть разумеет разумеющий), совесть имеющему прокаженную, какой не встретишь и у народов безбожных. И более [сказанного] говорить об этом всё по порядку запретил я языку моему, но из-за притеснений тягчайших от власти твоей и от великого горя сердечного дерзну сказать тебе, [хотя бы] немного. Зачем, царь, сильных во Израиле истребил, и воевод, дарованных тебе Богом для борьбы с врагами, различным казням предал, и святую кровь их победоносную в церквах Божьих пролил, и кровью мученической обагрил церковные пороги, и на доброхотов твоих, душу свою за тебя положивших, неслыханные от начала мира муки, и смерти, и притеснения измыслил, оболгав православных в изменах и чародействе и в ином непотребстве и с усердием тщась свет во тьму обратить и сладкое назвать горьким, а горькое сладким? В чем же провинились перед тобой и чем прогневали тебя заступники христианские? Не они ли разгромили прегордые царства и обратили их в покорные тебе во всем, у которых прежде в рабстве были предки наши? Не отданы ли тебе Богом крепчайшие крепости немецкие благодаря мудрости их? За это ли нам, несчастным, воздал, истребляя нас со всеми близкими нашими? Или ты, царь, мнишь, что бессмертен, и впал в невиданную ересь, словно не предстоит тебе предстать пред неподкупным судьей и надеждой христианской, богочальным Иисусом, который придет вершить справедливый суд над вселенной и уж тем более не минует гордых притеснителей и взыщет за все и мельчайшие прегрешения их, как вещают [божественные] слова? Это он, Христос мой, восседающий на престоле херувимском одесную величайшего из высших, – судия между тобой и мной».

Вопросы:

1. Опираясь на текст, объясните, почему князя Андрея Курбского называют «первым русским диссидентом». Укажите, в каком году он написал первое послание к царю Ивану, фрагмент из которого Вы только что прочитали (2 балла)
2. Объясните, что за «прегордые царства», «у которых прежде в рабстве были предки наши», имеет в виду автор послания. Укажите, когда именно их «разгромили» «заступники христианские» (4 балла)
3. Приведите не менее двух примеров упомянутых в тексте «крепостей немецких», завоеванных царскими воеводами. Объясните, что послужило поводом для завоевания этих крепостей (3 балла)
4. В своих посланиях к царю Андрей Курбский выступает фактически как публицист, а сама переписка, которая завязалась в итоге, – ярчайший образец общественно-политической мысли и литературы того времени. Используя приведенный фрагмент, а также другие публицистические произведения того времени сформулируйте не менее трех идей, которые высказывали образованные полемисты XVI в. Не забудьте указать, кто, именно развивал ту или иную теорию (6 баллов)

Ответ:

№ вопроса	Ответ на вопрос	
1.		
2.		
3.		
4.		

Задание 8. Соотнесите кадры военных фотографий с поэтическим произведением о событии Великой Отечественной войны. Какому событию посвящено стихотворение? Когда оно произошло? Фотографии подпишите, указав историческое событие / сражение и его точные даты (12 баллов за задание).

1



2



3



4



5



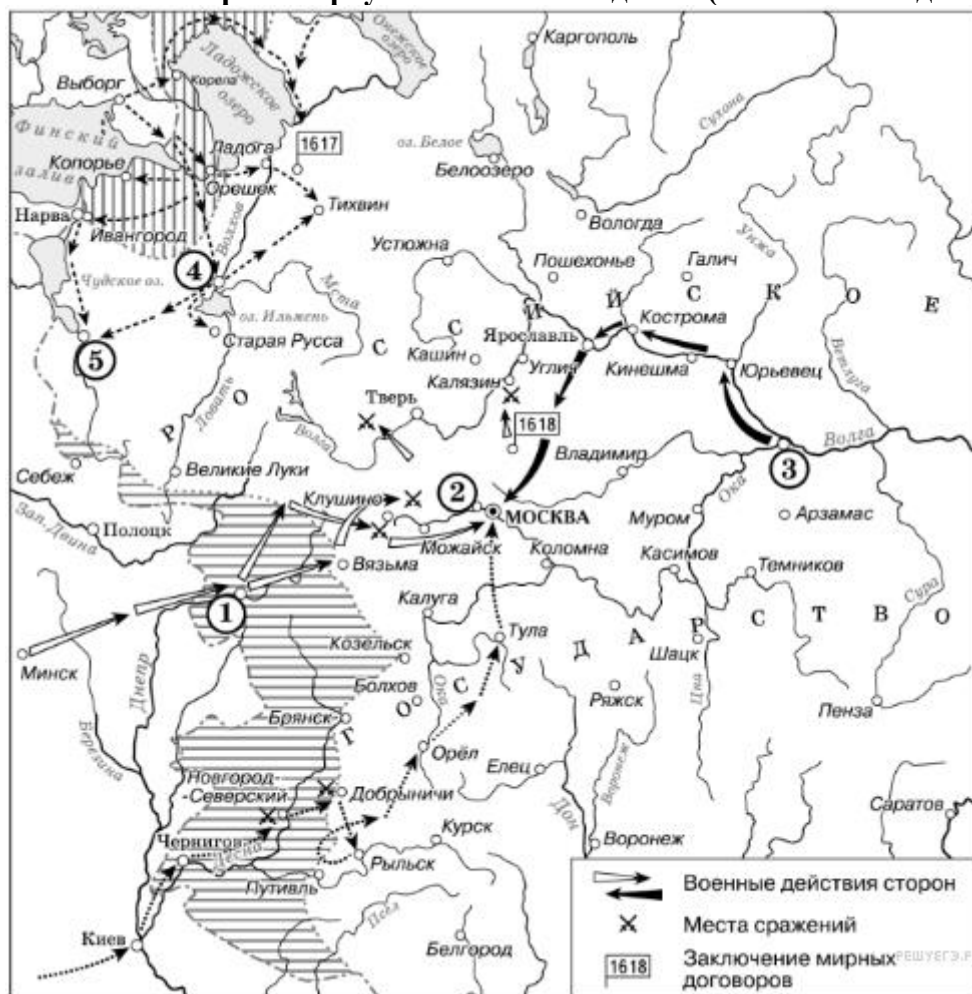
...И вот легли ему на плечи
 Полей распятых страшный стон,
 Смятение кровавой сечи,
 И мертвых оскверненный сон,
 И злое горе человежье,
 И то, что мы зовем судьбой,
 Судьбой страны, судьбой России.
 И город принимает бой,
 Все беды сердцем пересилив,
 Сшибаются хребты громов,
 Металл высверливает ямы,
 Торчат развалины домов
 Зубцами древних стен упрямых.
 От пепла тяжкого седой,
 Но так же, как и прежде молод.
 Над волжскою живой водой
 Стоит огнем объятый город –
 В простой шинели боевой,
 Как был Царицыном когда-то.
 Скрывает дым пороховой
 Его величие солдата.

Ответ:

№ изображения: _____

1	2	3	4	5

Задание 9. Рассмотрите карту и выполните задания (8 баллов за задание):



Задания по карте:

1. Назовите название периода русской истории, события которого изображены на карте (1 балл)
2. Назовите город, обозначенный на карте цифрой 1 (1 балл)
3. Назовите название пункта обозначенного цифрой 2. После, каких событий это местечко стало широко известно? (2 балла)
4. Назовите город, обозначенный на карте цифрой 3. Какие события связаны с этим городом? (2 балла)
5. Какой договор был заключен в 1617 г.? С каким государством? (1 балл)
6. Назовите договор, который был заключён в 1618 г.? (1 балл)

Ответ:

1 _____
2 _____
3 _____
4 _____
5 _____
6 _____

Задание 10. Творческое задание (эссе, 25 баллов).

Примерные темы эссе:

1. «В середине XVI века центральная монархическая власть смогла значительно возвыситься над обществом, поставить его под свой жесткий контроль... Опричнина окончательно повернула российскую государственность на самодержавный путь развития, обеспечив победу самодержавных начал над началами сословного представительства» (А.Павлов)
2. «Василий Шуйский превращался из государя холопов в правомерного царя подданных, правящего по законам» (В.Ключевский)
3. «Николай I любил Россию тяжелой любовью, которую она долго не могла забыть» (Ю.Готье)
4. «Император Александр III, получив Россию, при стечении самых неблагоприятных политических конъюнктур, — глубоко поднял международный престиж России без пролития капли русской крови» (С.Ю. Витте).
5. «Противопоставлять «Февраль» «Октябрю» как два периода революции, как всенародную революцию – партийно-заговорщическому срыву ее ... нельзя. «Октябрь» родился не после «Февраля», а вместе с ним, может быть, даже раньше его» (Ф.Степун)
6. «После катастрофы под Сталинградом в конце января 1943 года положение стало в достаточной степени угрожающим даже без выступления западных держав» (Г. Гудериан).